

Materia: geografía

Profesor: Gauna Jessica

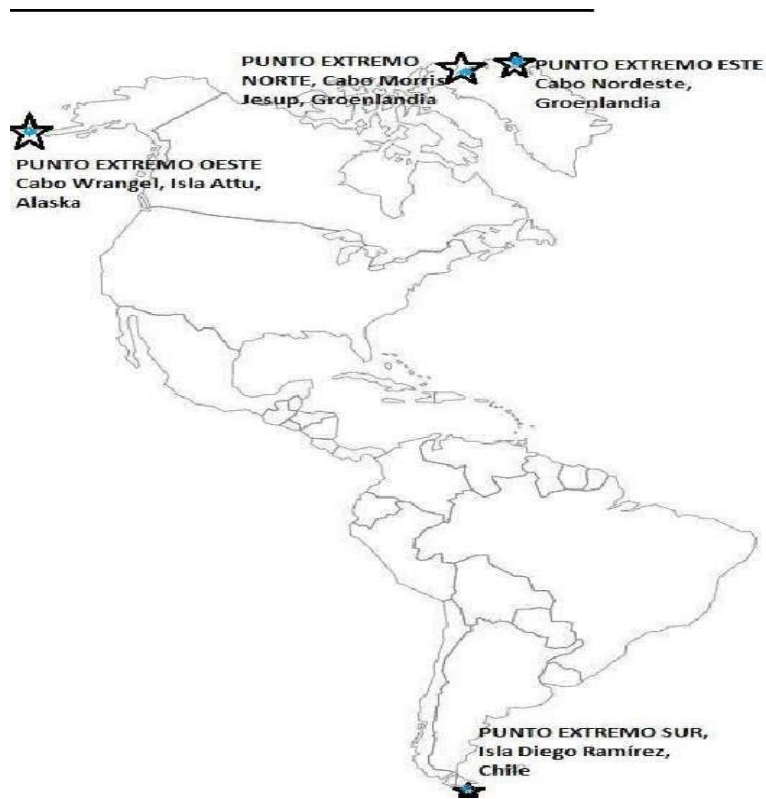
Tema: límites, puntos extremos y división política de América

**Copiamos en la carpeta solamente los textos, los mapas solo son guías para realizar la actividad final.**

### **PUNTOS EXTREMOS**

Los puntos extremos de América son los lugares del continente americano que presentan las dimensiones extremas en cuanto a la posición geográfica, la altura, la accesibilidad y la distancia a la costa o al mar. Los puntos geográficos extremos de América son los siguientes

- NORTE: CABO MORRIS JESUP, GROELANDIA
- ESTE: CABO NORDESTE, GROELANDIA
- OESTE: CABO WRANGEL, ISLAS ATTU, ALASKA
- SUR: ISLA DIEGO RAMIREZ, CHILE



### **LIMITES**

El continente americano está limitado por tres océanos:

- Límite al NORTE: Océano Glaciar Ártico.
- Límite al OESTE: Océano Pacífico.
- Límite al ESTE: Océano Atlántico



### DIVISION POLITICA

El continente americano está dividido políticamente en 35 Estados o países independientes y algunos territorios con distintos grados de dependencia con otros Estados.

Los países independientes en su condición de Estados están integrados por cuatro elementos:















- un territorio: es la base física sobre la que el Estado ejerce soberanía. Sobre él se asienta la población y desarrolla sus actividades;
- un pueblo: es la totalidad de habitantes que vive en el territorio argentino;
- un gobierno: es el que administra el Estado y se encarga de velar por el bienestar y la seguridad de todos sus habitantes;
- un sistema jurídico: es la organización que regula los derechos y deberes de todos los habitantes.

















Algunos de esos países son: Argentina, Estados Unidos, Canadá, México, Chile. Entre otros.






Y algunos de los países dependientes son: Islas Vírgenes, Puerto Rico, Groenlandia, entre otros, la mayoría son islas.

ACTIVIDADES:

- 1- Copiar detrás de un mapa político de América los países y sus capitales de la siguiente manera:  
Observación: las banderas no se deben realizar.

| N.º | PAÍS  | CAPITAL           |
|-----|---|-------------------|
| 1   |  Antigua y Barbuda | Saint John's      |
| 2   |  Argentina         | Buenos Aires      |
| 3   |  Bahamas           | Nasáu             |
| 4   |  Barbados          | Bridgetown        |
| 5   |  Belice            | Belmopán          |
| 6   |  Bolivia           | Sucre             |
| 7   |  Brasil          | Brasilia          |
| 8   |  Canadá          | Ottawa            |
| 9   |  Chile           | Santiago de Chile |
| 10  |  Colombia        | Bogotá            |
| 11  |  Costa Rica      | San José          |
| 12  |  Cuba            | La Habana         |
| 13  |  Dominica        | Roseau            |
| 14  |  Ecuador         | Quito             |

|    |  |                     |
|----|--|---------------------|
| 15 |  El Salvador                    | San Salvador        |
| 16 |  Estados Unidos                 | Washington D. C.    |
| 17 |  Granada                        | Saint George        |
| 18 |  Guatemala                      | Ciudad de Guatemala |
| 19 |  Guyana                         | Georgetown          |
| 20 |  Haití                          | Puerto Príncipe     |
| 21 |  Honduras                       | Tegucigalpa         |
| 22 |  Jamaica                      | Kingston            |
| 23 |  México                       | Ciudad de México    |
| 24 |  Nicaragua                    | Managua             |
| 25 |  Panamá                       | Panamá              |
| 26 |  Paraguay                     | Asunción            |
| 27 |  Perú                         | Lima                |
| 28 |  República Dominicana         | Santo Domingo       |
| 29 |  San Cristóbal y Nieves       | Basseterre          |
| 30 |  San Vicente y las Granadinas | Kingstown           |

|    |   |               |
|----|---|---------------|
| 31 |  Santa Lucía       | Castries      |
| 32 |  Surinam           | Paramaribo    |
| 33 |  Trinidad y Tobago | Puerto España |
| 34 |  Uruguay           | Montevideo    |
| 35 |  Venezuela         | Caracas       |

2- Ubicar en el mapa los países, respetando el número y su posición:  
 Por ejemplo:





- 3- Ubicar en el mismo mapa los puntos extremos y límites, guiarse de los mapas anteriores.