

Materia: Geografía

Profesor: Gauna Jessica

Curso: 2º año del ciclo básico (2º1, 2º2, 2º3)

EUROPA

- Leer el siguiente texto:

Europa es el segundo continente más pequeño del mundo, sólo por detrás de Oceanía. Tiene una superficie de 10 530 751 km², lo que representa el 7 % de las tierras emergidas. A finales de 2016 está compuesto por cincuenta países, incluyendo Rusia y Turquía, aunque la mayor parte de sus territorios sea asiática. Su distancia máxima de norte a sur es de 4300 km y de este a oeste de 5600 km. Se sitúa en el hemisferio norte. Está unido a Asia, configurando una enorme península dentro de lo que se denomina Eurasia, y debe sus características de individualidad, además de elementos físicos, a rasgos de orden histórico y humano.

Limita con el océano Ártico al norte, el océano Atlántico al oeste y el mar Mediterráneo al sur, lo que evidencia una importantísima influencia oceánica dada su amplia fachada formada por casi 38 000 km de costas y que, además, lo llega a caracterizar como uno de sus rasgos físicos más importantes, determinando el clima en la mayor parte del continente. Al este su límite es continental y, según la mayor parte de los geógrafos, lo sitúan al pie oriental de los montes Urales, el río Ural, la cordillera del Cáucaso y el mar Negro hasta llegar al mar de Mármara.



El continente se caracteriza también por poseer una gran parte de terrenos macizos, a la que se contrapone una parte mucho más articulada, compuesta por islas y penínsulas. Las islas representan el 8 % y las penínsulas el 27 % de Europa. El contorno de estas islas y penínsulas es muy diverso y accidentado por la gran extensión de sus costas.

Relieve:

Europa es el continente con más territorio llano, con una altura media de 230 metros. La máxima expresión de estas planicies es la gran llanura europea, que se extiende 2000 km desde las costas atlánticas francesas hasta los montes Urales, la frontera física con Asia.



(foto de los Montes Urales)

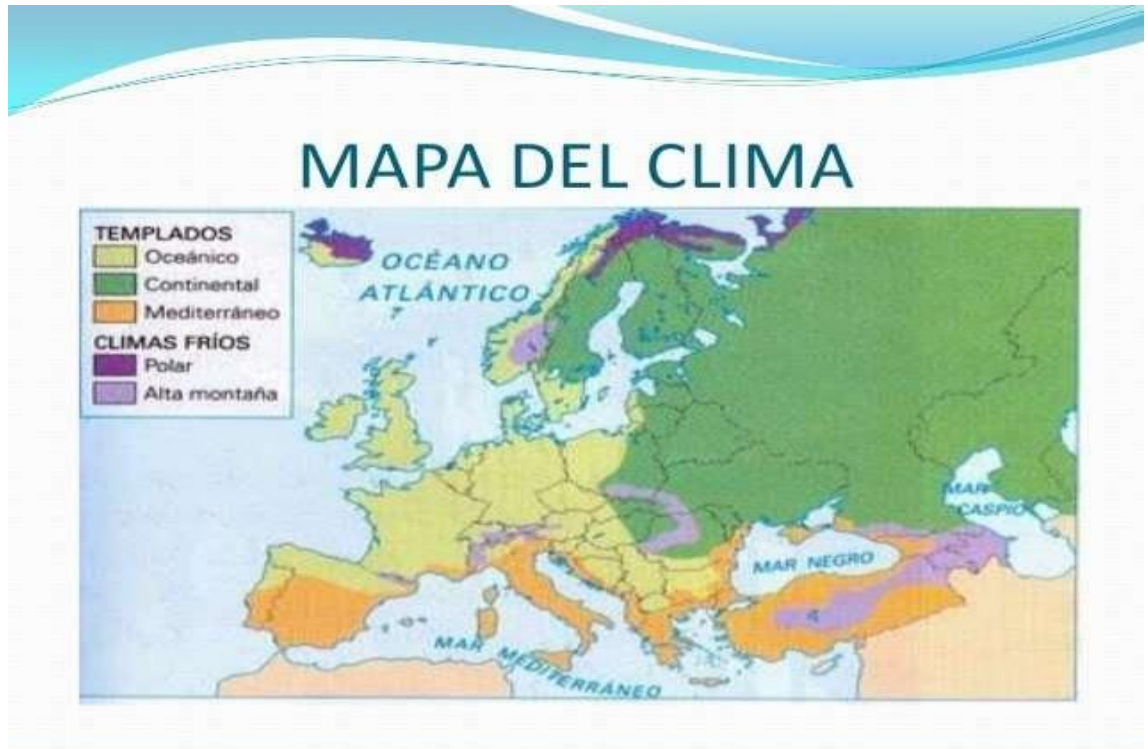
Clima:

El continente europeo es una zona templada en su mayor parte. Su clima no solo varía de norte a sur, sino también de oeste a este a causa de las corrientes de aire polar marino y polar continental, y en menor medida de las corrientes de aire tropical marino y tropical continental.

se pueden distinguir los siguientes climas:

- Clima mediterráneo: entre los 30º y los 45º de latitud se puede encontrar el clima mediterráneo. De él cabe destacar la aridez que se produce durante el verano provocada por el clima subtropical, y la humedad del invierno debido al frente polar.
- Clima oceánico: es un clima que comprende las orillas del océano Atlántico y va desde Noruega hasta la costa norte a sur de Portugal. Este clima posee una humedad constante y temperaturas moderadas sin grandes oscilaciones.
- Clima continental: se caracteriza por el contraste entre las precipitaciones, altas temperaturas del verano y el frío seco del invierno. Las altas temperaturas del verano hacen que la evaporación del agua que cae en forma de chaparrones sea muy alta.
- Clima de tundra: se da entre los 60 y 80 grados de latitud, en Rusia y al norte de Noruega, Suecia y Finlandia. Se caracteriza por escasas precipitaciones (alrededor de 250 mm de media) y un frío constante con máximas de 10 °C durante todo el año.
- Clima de montaña: en el clima de montaña la temperatura disminuye de 0,5 a 1 °C con cada 100 metros de altura, lo que aumenta la humedad relativa del aire y provoca precipitaciones.

- **Clima estepario:** Se da en la zona oriental de Europa, desde Ucrania hasta Kazajistán, en el desierto del Ryn, límite con Asia. También se pueden dar estas condiciones climáticas en puntos localizados del Mediterráneo: valle del Ebro, sureste español y zonas secas del sur de Italia. Se caracteriza por las bajas precipitaciones y las grandes oscilaciones térmicas. Generalmente las precipitaciones son de 200 mm a 4



Hidrografía:

Un área relativamente pequeña y un relieve poco elevado impiden a Europa disponer de ríos de la longitud del Amazonas. Entre los grandes ríos se cuentan el Rin, el Danubio, el Volga y el Don, destacando los ríos en las llanuras rusas.




























Foto del río Rin

















ACTIVIDADES:










- 1- Completar las siguientes frases:
 - a- Europa es el segundo continente más pequeño del mundo, después de
 - b- Limita con el océano al norte, el océano al oeste y el mar al sur y al este con el continente de
 - c- los montes, es la frontera física con Asia.
 - d- El Clima de..... se da entre los 60 y 80 grados de latitud, en Rusia y al norte de Noruega, Suecia y Finlandia.
 - e- Entre los grandes ríos se cuentan el,, y el
- 2- Hacer la división política de Europa:

LISTADO CON LOS PAÍSES Y CAPITALS DE EUROPA

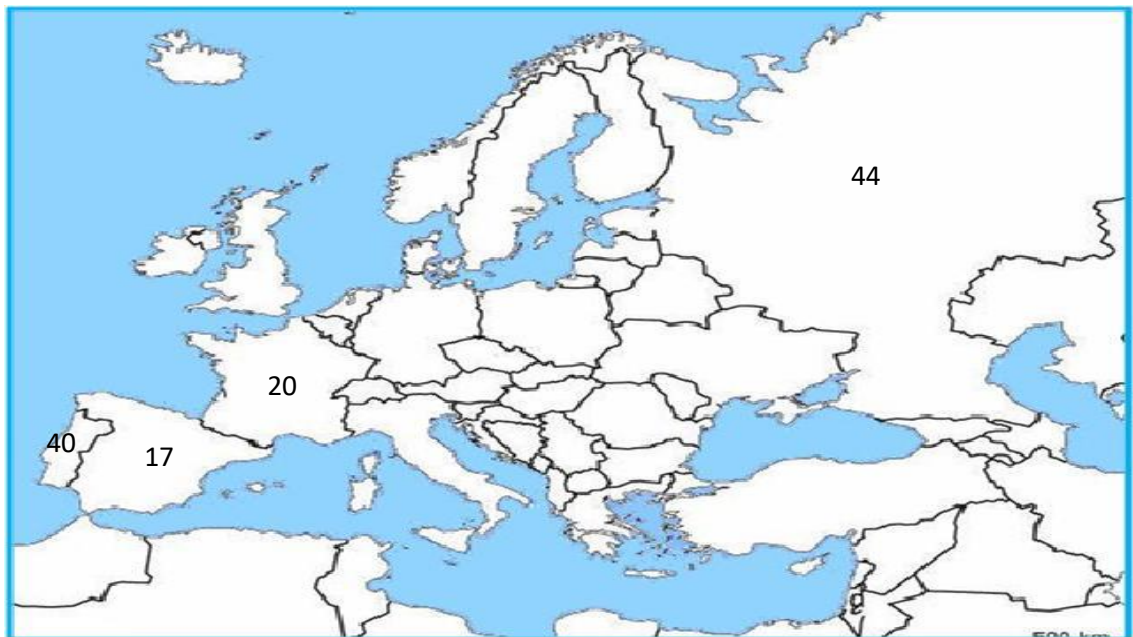
N.º	PAÍS	CAPITAL
1	 Albania	Tirana
2	 Alemania	Berlín
3	 Andorra	Andorra La Vieja
4	 <i>Armenia (*)</i>	Ereván
5	 Austria	Viena
6	 <i>Azerbaiyán (*)</i>	Bakú
7	 Bélgica	Bruselas
8	 Bielorrusia	Minsk
9	 Bosnia y Herzegovina	Sarajevo

10	 Bulgaria	Sofía
11	 Chipre (*)	Nicosia
12	 Ciudad del Vaticano	Ciudad del Vaticano
13	 Croacia	Zagreb
14	 Dinamarca	Copenhague
15	 Eslovaquia	Bratislava
16	 Eslovenia	Liubliana
17	 España	Madrid
18	 Estonia	Tallín
19	 Finlandia	Helsinki
20	 Francia	París
21	 Georgia (*)	Tiflis
22	 Grecia	Atenas
23	 Hungría	Budapest
24	 Irlanda	Dublín
25	 Islandia	Reikiavik

26	 Italia	Roma
27	 <i>Kazajistán (*)</i>	Astaná
28	 Letonia	Riga
29	 Liechtenstein	Vaduz
30	 Lituania	Vilna
31	 Luxemburgo	Luxemburgo
32	 Macedonia del Norte	Skopie
33	 Malta	La Valeta
34	 Moldavia	Chisinau
35	 Mónaco	Mónaco
36	 Montenegro	Podgorica
37	 Noruega	Oslo
38	 Países Bajos	Ámsterdam
39	 Polonia	Varsovia
40	 Portugal	Lisboa
41	 Reino Unido	Londres

42	 República Checa	Praga
43	 Rumanía	Bucarest
44	 Rusia (*)	Moscú
45	 San Marino	San Marino
46	 Serbia	Belgrado
47	 Suecia	Estocolmo
48	 Suiza	Berna
49	 Turquía (*)	Ankara
50	 Ucrania	Kiev

3- En un mapa político de Europa ubicar los países donde corresponde. (solo ubicar con números) por Ejemplo:



El siguiente mapa es solo de orientacion:

